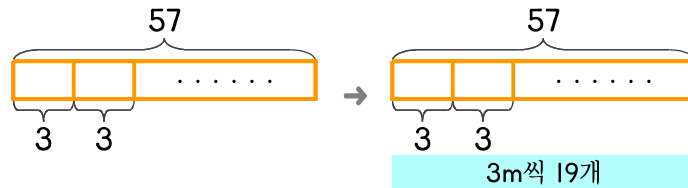


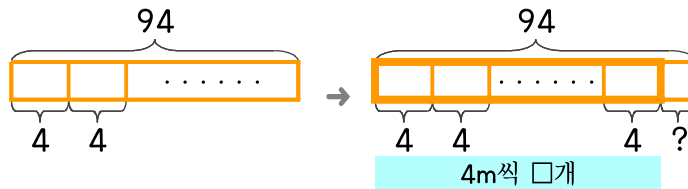
문제를 읽고 알맞은 식을 세워 답을 구하세요.

- 7 상자 한 개를 포장하는 데 포장끈 3m가 필요합니다. 포장끈 57m가 있다면 상자 몇 개를 포장할 수 있나요?



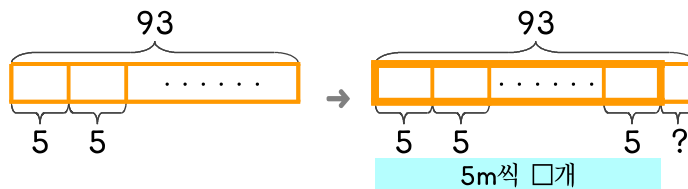
식 $57 \div 3 = 19$ 답 19개

- 8 상자 한 개를 포장하는 데 포장끈 4m가 필요합니다. 포장끈 94m가 있다면 포장할 수 있는 상자 개수와 남는 끈의 길이를 구하세요.



식 _____ 답 _____

- 9 상자 한 개를 포장하는 데 포장끈 5m가 필요합니다. 포장끈 93m가 있다면 포장할 수 있는 상자 개수와 남는 끈의 길이를 구하세요.



식 _____ 답 _____

