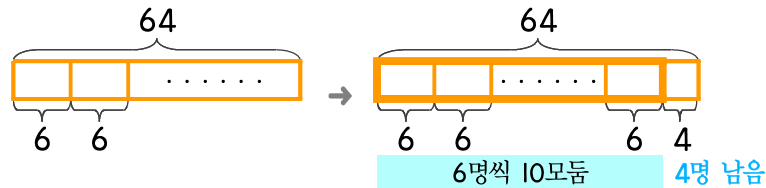


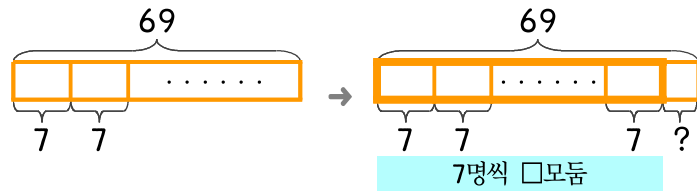
문제를 읽고 알맞은 식을 세워 답을 구하세요.

- 10 도서실에 있는 학생들을 여섯 명씩 한 모둠으로 만들려고 합니다. 학생이 64명이면 모둠을 만들지 못하고 남는 학생은 몇 명인가요?



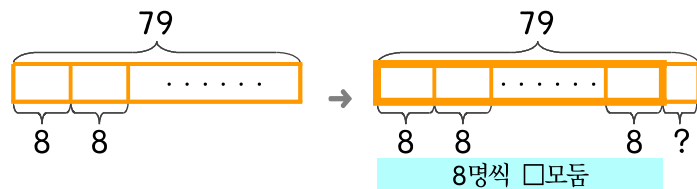
식  $64 \div 6 = 10 \cdots 4$  답 4명

- 11 체육관에 있는 학생 69명을 일곱 명씩 한 모둠으로 만들려고 합니다. 모둠을 만들지 못하고 남는 학생은 몇 명인가요?



식 \_\_\_\_\_ 답 \_\_\_\_\_

- 12 운동장에 79명이 있습니다. 여덟 명씩 한 모둠으로 만들려고 할 때 모둠을 만들지 못하고 남는 학생은 몇 명인가요?



식 \_\_\_\_\_ 답 \_\_\_\_\_

