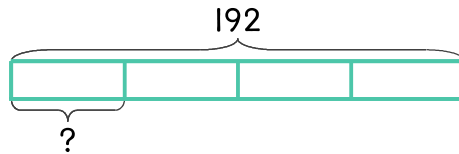


문제를 읽고 알맞은 식을 세워 답을 구하세요.

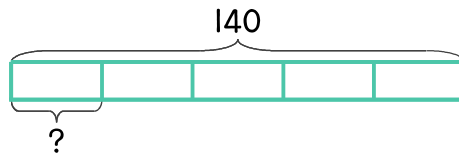
- 13 과자 4상자를 산 다음 모두 뜯어서 모았더니 192개입니다. 과자는 한 상자에 몇 개씩 들어 있었나요?



식 _____

답 _____

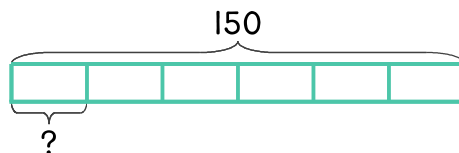
- 14 초콜릿 5봉지를 산 다음 모두 뜯어서 모았더니 140개입니다. 초콜릿은 한 봉지에 몇 개씩 들어 있었나요?



식 _____

답 _____

- 15 사탕 6봉지를 산 다음 모두 뜯어서 모았더니 150개입니다. 사탕은 한 봉지에 몇 개씩 들어 있었나요?



식 _____

답 _____

