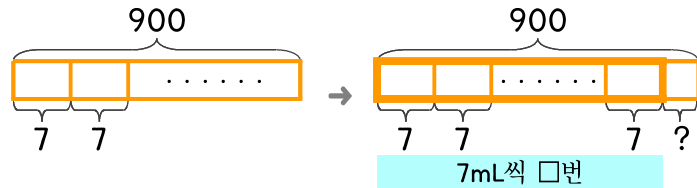


문제를 읽고 알맞은 식을 세워 답을 구하세요.

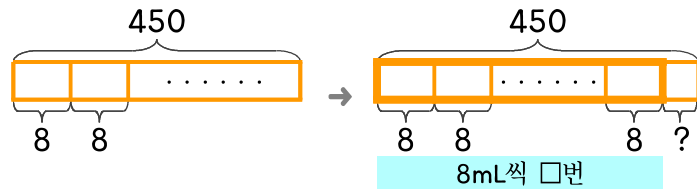
- 16 소독약을 한 번에 7mL씩 사용합니다. 소독약이 900mL 있다면 몇 번을 사용할 수 있는지, 남은 소독약은 몇 mL인지 차례로 쓰세요.



식

답

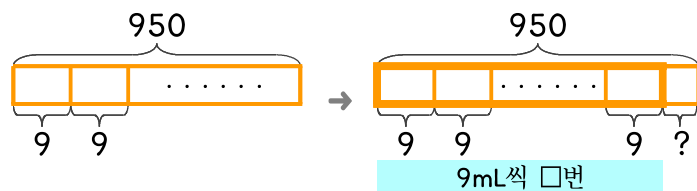
- 17 소독약을 한 번에 8mL씩 사용합니다. 소독약이 450mL 있다면 몇 번을 사용할 수 있나요?



식

답

- 18 소독약이 950mL 있는데 한 번에 9mL씩 사용한다면 남은 소독약은 몇 mL인가요?



식

답

