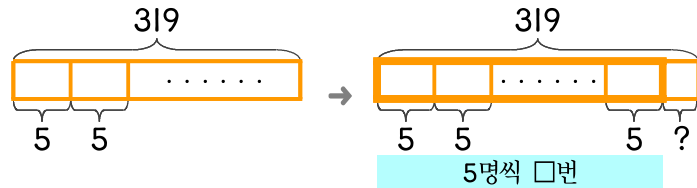


문제를 읽고 알맞은 식을 세워 답을 구하세요.

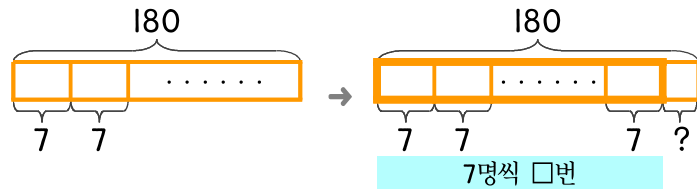
- 19 케이블카에 5명까지 탈 수 있습니다. 타려는 사람이 319명인데 5명씩 타고 남은 사람도 모두 타려면 케이블카는 몇 번을 운행해야 하나요?



식

답

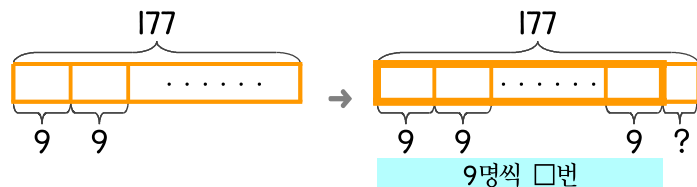
- 20 엘리베이터에 7명까지 탈 수 있습니다. 타려는 사람이 180명인데 7명씩 타고 남은 사람도 모두 타려면 엘리베이터는 몇 번을 운행해야 하나요?



식

답

- 21 놀이기구에 9명까지 탈 수 있습니다. 타려는 사람이 177명인데 9명씩 타고 남은 사람도 모두 타려면 놀이기구는 몇 번을 운행해야 하나요?



식

답



정답