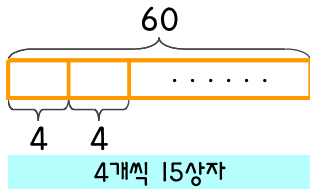


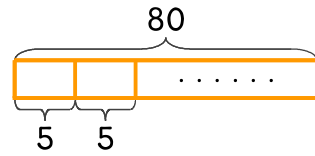
문제를 읽고 알맞은 식을 세워 답을 구하세요.

- 1 떡집에서 찹쌀떡 60개를 만들어서 한 상자에 4개씩 넣어서 팔려고 합니다. 몇 상자를 만들 수 있나요?



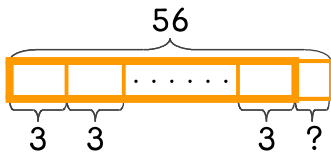
식 $60 \div 4 = 15$ 답 15상자

- 2 떡집에서 백설기 80개를 만들어서 한 상자에 5개씩 넣어서 팔려고 합니다. 몇 상자를 만들 수 있나요?



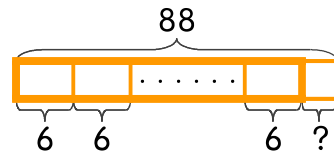
식 _____ 답 _____

- 3 떡집에서 무지개떡 56개를 만들어서 한 상자에 3개씩 넣어서 팔려고 합니다. 몇 상자를 만들고 몇 개가 남나요?



식 _____ 답 _____

- 4 떡집에서 인절미 88개를 만들어서 한 상자에 6개씩 넣어서 팔려고 합니다. 몇 상자를 만들고 몇 개가 남나요?



식 _____ 답 _____

