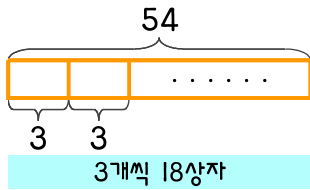


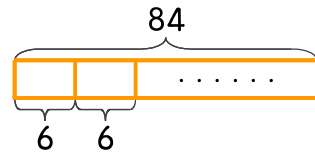
문제를 읽고 알맞은 식을 세워 답을 구하세요.

- 1 과수원에서 멜론 54개를 한 상자에 3개씩 넣어서 팔려고 합니다. 몇 상자를 팔 수 있나요?



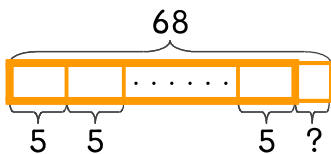
식 $54 \div 3 = 18$ 답 18상자

- 2 과수원에서 포도 84송이를 한 상자에 6송이씩 넣어서 팔려고 합니다. 몇 상자를 팔 수 있나요?



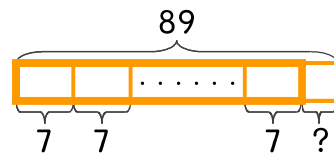
식 _____ 답 _____

- 3 과수원에서 복숭아 68개를 한 상자에 5개씩 넣어서 팔려고 합니다. 몇 상자를 만들고 몇 개가 남나요?



식 _____ 답 _____

- 4 과수원에서 감 89개를 한 상자에 7개씩 넣어서 팔려고 합니다. 몇 상자를 만들고 몇 개가 남나요?



식 _____ 답 _____

