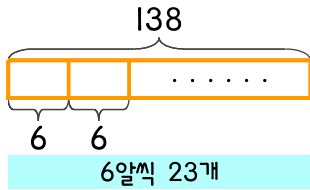


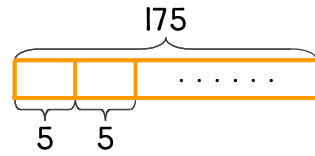
문제를 읽고 알맞은 식을 세워 답을 구하세요.

- 1 송편 한 개에 콩을 6알씩 넣어서 만들고 있습니다. 콩이 138알 있다면 송편을 몇 개 만들 수 있나요?



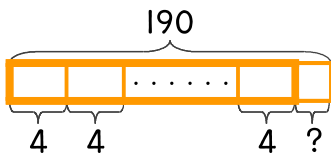
식 $138 \div 6 = 23$ 답 23개

- 2 송편 한 개에 콩을 5알씩 넣어서 만들고 있습니다. 콩이 175알 있다면 송편을 몇 개 만들 수 있나요?



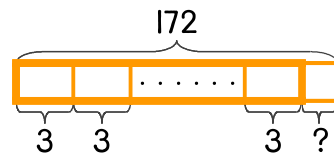
식 _____ 답 _____

- 3 송편 한 개에 콩을 4알씩 넣으려고 합니다. 콩이 190알 있다면 만들 수 있는 송편 개수와 남는 콩은 몇 알인지 구하세요.



식 _____ 답 _____

- 4 송편 한 개에 콩을 3알씩 넣으려고 합니다. 콩이 172알 있다면 만들 수 있는 송편 개수와 남는 콩은 몇 알인지 구하세요.



식 _____ 답 _____

