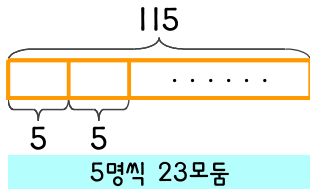


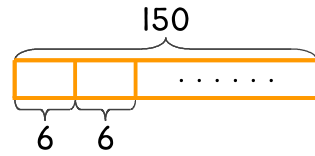
문제를 읽고 알맞은 식을 세워 답을 구하세요.

1 체육관에 있는 학생들을 5명씩 모둠으로 만들려고 합니다. 학생이 115명이면 몇 모둠이 만들어지나요?



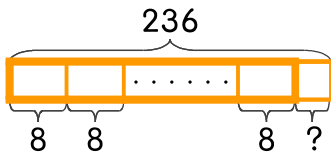
식  $115 \div 5 = 23$     답 23모둠

2 체육관에 있는 학생들을 6명씩 모둠으로 만들려고 합니다. 학생이 150명이면 몇 모둠이 만들어지나요?



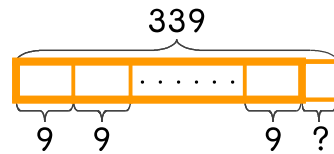
식 \_\_\_\_\_    답 \_\_\_\_\_

3 운동장에 있는 학생들을 8명씩 모둠으로 만들려고 합니다. 학생이 236명이면 만들 수 있는 모둠 수와 남는 학생 수를 구하세요.



식 \_\_\_\_\_    답 \_\_\_\_\_

4 운동장에 있는 학생들을 9명씩 모둠으로 만들려고 합니다. 학생이 339명이면 만들 수 있는 모둠 수와 남는 학생 수를 구하세요.



식 \_\_\_\_\_    답 \_\_\_\_\_

