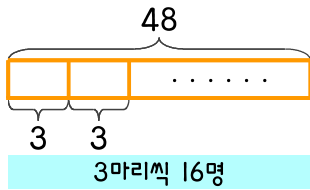


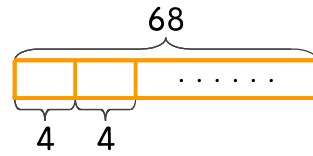
문제를 읽고 알맞은 식을 세워 답을 구하세요.

- 1 수족관에 열대어 48마리가 있습니다. 한 사람에게 3마리씩 나누어 준다면 몇 명에게 나누어 줄 수 있나요?



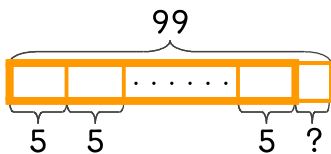
식 $48 \div 3 = 16$ 답 16명

- 2 큰 어항에 열대어 68마리가 있습니다. 작은 어항 한 개에 4마리씩 넣는다면 작은 어항 몇 개에 나누어 넣을 수 있나요?



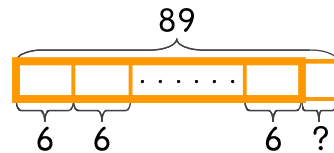
식 _____ 답 _____

- 3 카네이션 99송이를 5송이씩 묶어서 꽃다발을 만든다면 꽃다발은 몇 개를 만들 수 있나요?



식 _____ 답 _____

- 4 백합 89송이를 6송이씩 묶어서 꽃다발을 만든다면 남은 백합은 몇 송이인가요?



식 _____ 답 _____

