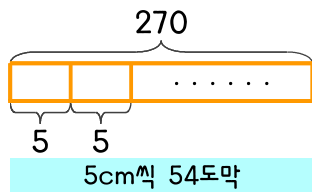


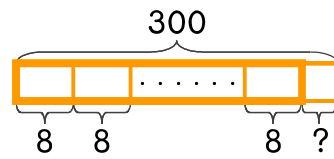
문제를 읽고 알맞은 식을 세워 답을 구하세요.

- 1 길이가 270cm인 철사가 있습니다. 철사를 길이가 5cm씩 되도록 자르면 모두 몇 도막이 되나요?



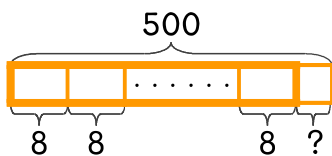
식 $270 \div 5 = 54$ 답 54도막

- 2 길이가 300cm인 철사가 있습니다. 철사를 길이가 8cm씩 되도록 자르면 모두 몇 도막이 되고 몇 cm가 남나요?



식 _____ 답 _____

- 3 약이 500mL 있습니다. 하루에 8mL씩 먹는다면 며칠 동안 먹을 수 있는 양인가요?



식 _____ 답 _____

- 4 과자 한 상자에 들어 있는 과자 개수는 모두 같습니다. 과자 몇 상자를 뜯어서 모두 세어 보니 160개입니다. 과자는 몇 상자 인지 다음 중에서 답을 찾아보세요.

3상자 4상자 6상자

_____ 답 _____

