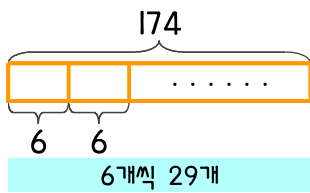


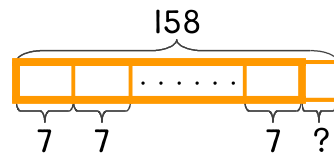
문제를 읽고 알맞은 식을 세워 답을 구하세요.

- 1 초코칩 쿠키를 만들고 있는데 쿠키 1개에 초코칩을 6개씩 넣습니다. 초코칩이 174개 있다면 쿠키 몇 개를 만들 수 있나요?



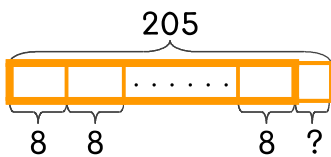
식 $174 \div 6 = 29$ 답 29개

- 2 건포도 쿠키를 만들고 있는데 쿠키 1개에 건포도를 7개씩 넣습니다. 건포도가 158개 있다면 만들 수 있는 쿠키 개수와 남은 건포도는 몇 개인지 구하세요.



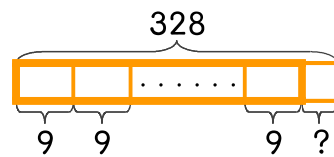
식 _____ 답 _____

- 3 군고구마 205개를 한 사람에게 8개씩 나누어 주려고 합니다. 몇 명에게 나누어 줄 수 있나요?



식 _____ 답 _____

- 4 홍시 328개를 하루에 9개씩 먹으려고 합니다. 먹을 수 있는 날 수와 남은 홍시 개수를 구하세요.



식 _____ 답 _____

