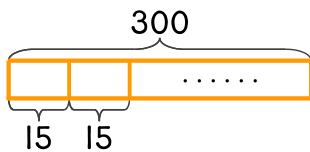


문제를 해결하는 데 필요한 식에 ○ 하세요. 답은 구하지 않습니다.

1 300에서 15를 몇 번 뺄 수 있는지 구하세요.

300×15

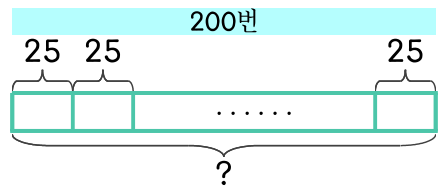
$300 \div 15$



2 25를 200번 더하면 얼마인가요?

25×200

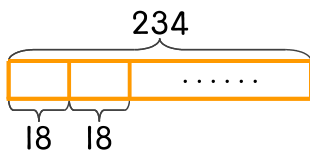
$200 \div 25$



3 자두 234개를 한 상자에 18개씩 담으려고 합니다. 몇 상자가 되나요?

234×18

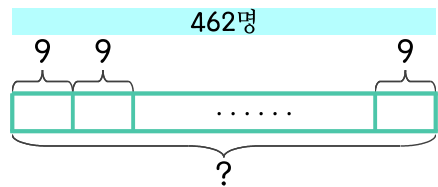
$234 \div 18$



4 전교생 462명에게 옥수수를 9개씩 주려면 옥수수가 모두 몇 개 필요한가요?

9×462

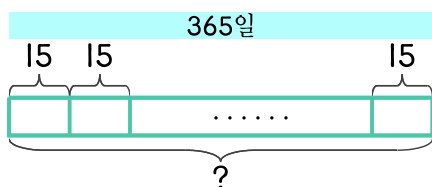
$462 \div 9$



5 일 년 365일 동안 매일 종이학을 15개씩 접는다면 일 년 동안 접을 수 있는 종이학은 몇 개인가요?

15×365

$365 \div 15$



6 밤 240개를 12상자에 똑같이 나누어 담으려고 합니다. 한 상자에 밤을 몇 개씩 담으면 되나요?

240×12

$240 \div 12$

