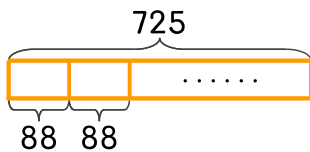


문제를 해결하는 데 필요한 식에 ○ 하세요. 답은 구하지 않습니다.

1 725에서 88을 최대한 많이 빼고 남는 수는 얼마인가요?

725×88

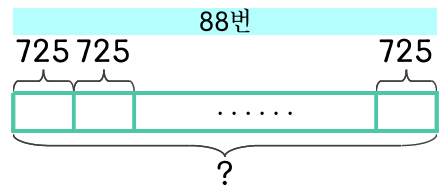
$725 \div 88$



2 725를 88번 더하면 얼마인가요?

725×88

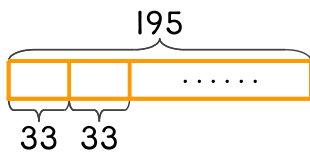
$725 \div 88$



3 과자 195개가 있습니다. 한 상자에 33개씩 담으면 몇 상자에 담고 몇 개가 남나요?

195×33

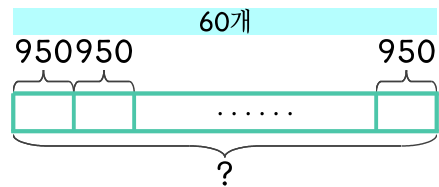
$195 \div 33$



4 한 개에 950원인 아이스크림 60개를 사려면 얼마가 필요한가요?

950×60

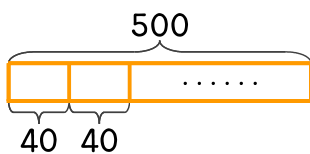
$950 \div 60$



5 색종이 500장을 학생들에게 40장씩 나눠 준다면 몇 명에게 나눠 주고, 남는 것은 몇 장인가요?

500×40

$500 \div 40$



6 상자 한 개를 포장하는 데 끈 135cm가 필요합니다. 상자 25개를 포장하는 데 필요한 끈은 몇 cm인가요?

135×25

$135 \div 25$

