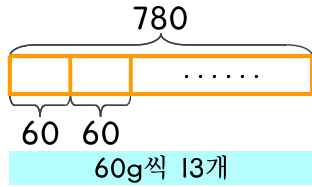
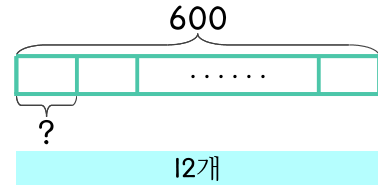


1 밀가루 반죽 780g이 있습니다. 반죽 60g이 빵 1개가 된다면 이 반죽으로 빵을 몇 개 만들 수 있나요?



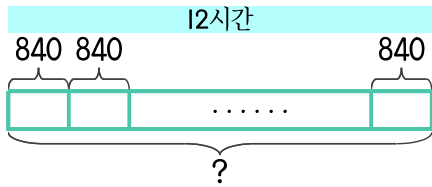
식 $780 \div 60 = 13$
 답 13개

2 밀가루 반죽 600g으로 똑같은 빵 12개를 만들려고 합니다. 빵 1개에 사용되는 밀가루 반죽은 몇 g인가요?



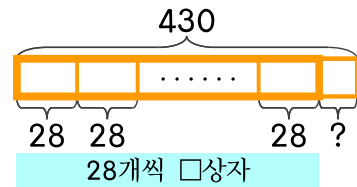
식 _____
 답 _____

3 어떤 비행기는 한 시간에 840km를 갈 수 있습니다. 같은 속력으로 비행을 12시간 한다면 몇 km를 갈 수 있나요?



식 _____
 답 _____

4 초콜릿 430개가 있습니다. 한 상자에 28개씩 담으면 몇 상자에 담고 몇 개가 남나요?



식 _____
 답 _____

