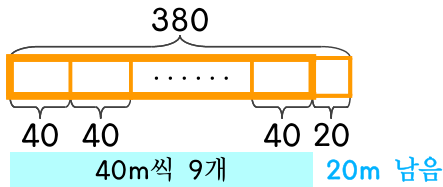


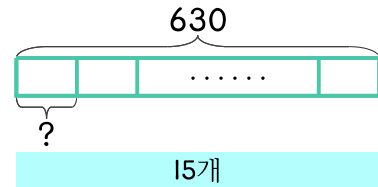
1 밧줄 380m가 있는데 줄다리기로 40m씩 자르려고 합니다. 줄다리기로 밧줄이 몇 개가 되는지 그리고 남은 밧줄은 몇 m인지 구하세요.



식 $380 \div 40 = 9 \cdots 20$

답 9개, 20m

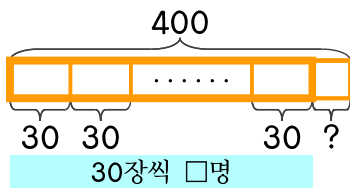
2 밧줄 630m가 있습니다. 줄다리기로 밧줄 15개를 만들려면 한 개가 몇 m씩 되도록 자르면 되나요?



식 _____

답 _____

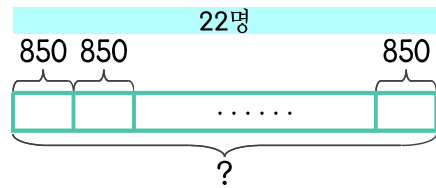
3 라온이는 붙임딱지 400장을 모았습니다. 친구들에게 30장씩 나눠 준다면 나눠 줄 수 있는 사람 수와 남은 붙임딱지 수를 구하세요.



식 _____

답 _____

4 선생님께서 반 학생들 22명에게 아이스크림을 한 개씩 사 주려고 합니다. 아이스크림이 한 개에 850원이라면 선생님은 얼마가 필요한가요?



식 _____

답 _____

