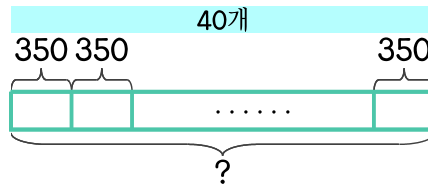


문제를 읽고 알맞은 식을 세워 답을 구하세요.

1 한 개에 350원인 아이스크림 40개를 사려면 얼마가 필요한가요?



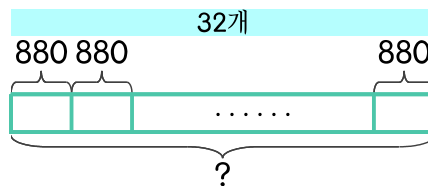
식

$$350 \times 40 = 14000$$

답

14000원

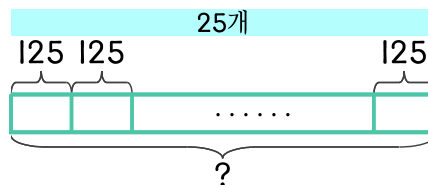
2 한 개에 880원인 아이스크림 32개를 사려면 얼마가 필요한가요?



식

답

3 아이스크림 한 개를 만드는 데 설탕이 125g 필요합니다. 아이스크림 25개를 만드는 데 필요한 설탕은 몇 g인가요?



식

답

