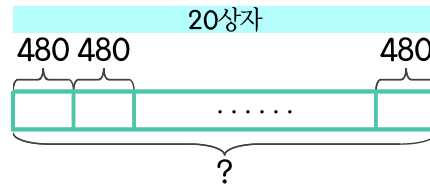


문제를 읽고 알맞은 식을 세워 답을 구하세요.

- 4 색종이가 한 상자에 480장씩 들어 있습니다. 20상자에 들어 있는 색종이는 몇 장인가요?



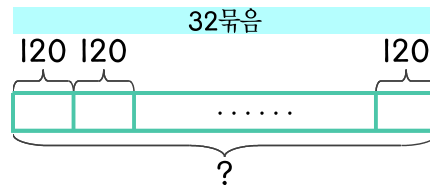
식

$$480 \times 20 = 9600$$

답

9600장

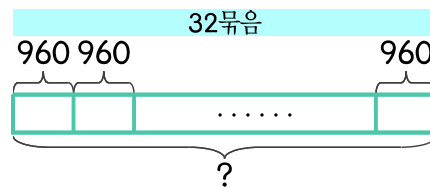
- 5 종이가 한 묶음에 120장씩 들어 있습니다. 32묶음에 들어 있는 종이는 몇 장인가요?



식

답

- 6 종이 한 묶음의 무게가 960g입니다. 종이 32묶음의 무게는 몇 g인가요?



식

답

