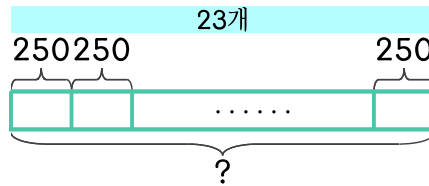


문제를 읽고 알맞은 식을 세워 답을 구하세요.

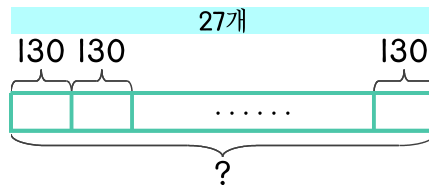
- 13 식빵 한 개를 만드는 데 밀가루 250g이 필요합니다. 식빵 23개를 만드는 데 필요한 밀가루는 몇 g인가요?



식

답

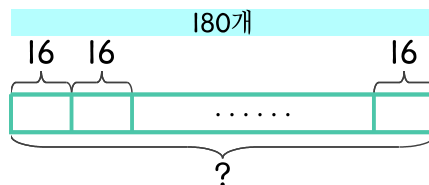
- 14 단팥빵 한 개를 만드는 데 밀가루 130g이 필요합니다. 단팥빵 27개를 만드는 데 필요한 밀가루는 몇 g인가요?



식

답

- 15 밤식빵 한 개를 만드는 데 밤이 16개 필요합니다. 밤식빵 180개를 만드는 데 필요한 밤은 몇 개인가요?



식

답

