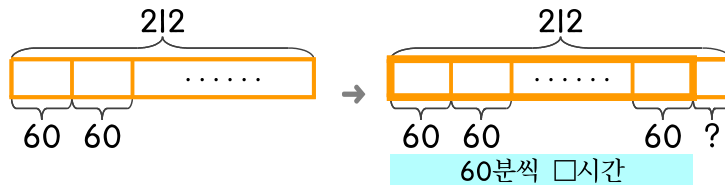


문제를 읽고 알맞은 식을 세워 답을 구하세요.

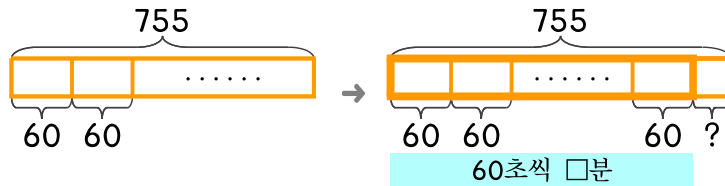
10 어떤 영화의 상영 시간이 212분입니다. 212분은 몇 시간 몇 분인가요?



식

답

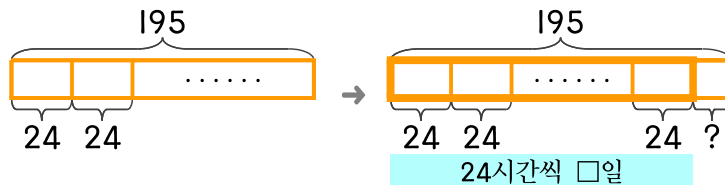
11 은미가 공원 다섯 바퀴를 도는 데 걸린 시간이 755초입니다. 755초는 몇 분 몇 초인가요?



식

답

12 어느 마을에 195시간 동안 정전이 되었습니다. 195시간은 며칠 몇 시간인가요?



식

답

