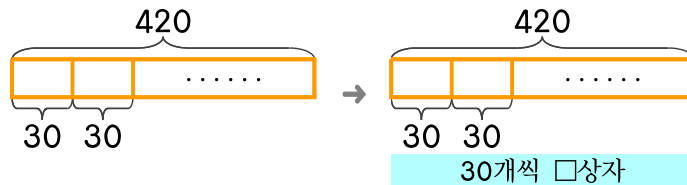


문제를 읽고 알맞은 식을 세워 답을 구하세요.

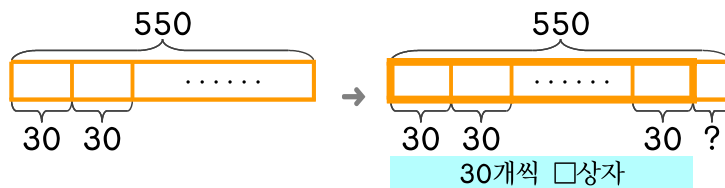
13 도넛 420개를 한 상자에 30개씩 담으면 몇 상자에 담을 수 있을까요?



식

답

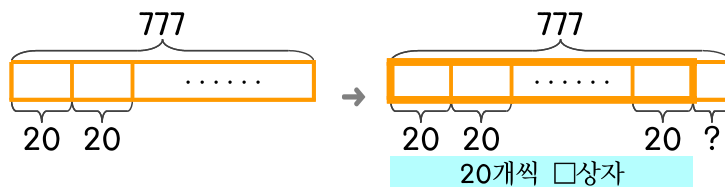
14 도넛 550개를 한 상자에 30개씩 담으면 남는 것은 몇 개인가요?



식

답

15 도넛 777개를 한 상자에 20개씩 담고 있습니다. 도넛 몇 개가 더 있으면 남는 것이 없이 모두 20개씩 담을 수 있을까요?



식

답



정답