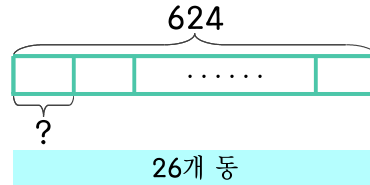


문제를 읽고 알맞은 식을 세워 답을 구하세요.

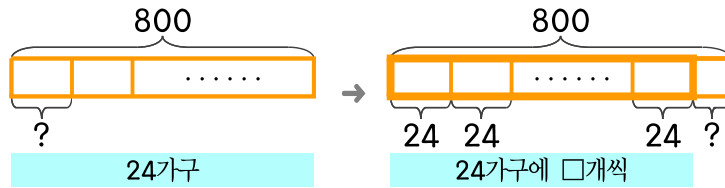
- 22 아파트 26개 동에는 624가구가 살고 있습니다. 한 동에 몇 가구씩 살고 있을까요?  
(동마다 가구 수는 같습니다.)



식

답

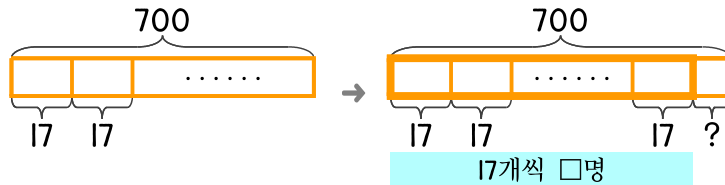
- 23 옥수수 800개를 24가구에 똑같이 나누어 주려면 몇 개씩 나누어 주고 몇 개가 남을까요?



식

답

- 24 옥수수 700개를 한 사람에게 17개씩 나누어 주면 남는 것은 몇 개인가요?



식

답

