

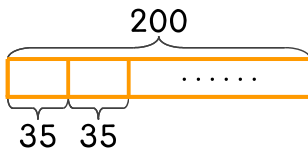
문제를 해결하는 데 필요한 식에 ○ 하세요. 답은 구하지 않습니다.

1 200에서 35를 몇 번 뺄 수 있는지 구하세요.

2 35를 200번 더하면 얼마인지 구하세요.

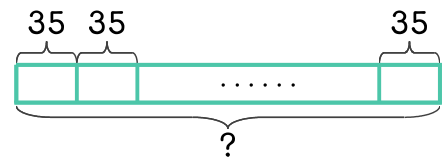
200×35

$200 \div 35$



35×200

$200 \div 35$

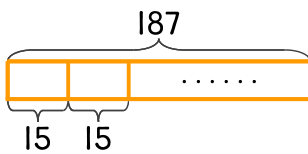


3 굴 187개를 한 봉지에 15개씩 담으려고 합니다. 몇 봉지를 만들 수 있나요?

4 굴이 187개씩 들어 있는 상자가 15개 있습니다. 굴은 모두 몇 개인가요?

187×15

$187 \div 15$



187×15

$187 \div 15$

