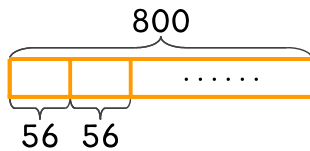


문제를 해결하는 데 필요한 식에 ○ 하세요. 답은 구하지 않습니다.

- 9 800에서 56을 최대한 많이 빼고 남는 수는 얼마인가요? 10 800을 56번 더하면 얼마인가요?

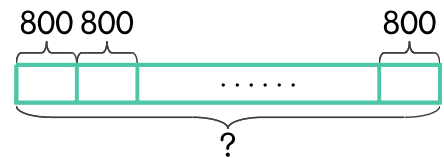
800×56

$800 \div 56$



800×56

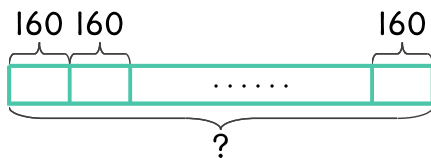
$800 \div 56$



- 11 상자 한 개를 포장하는 데 끈이 160cm 필요합니다. 상자 20개를 포장하는 데 필요한 끈은 몇 cm인가요?

160×20

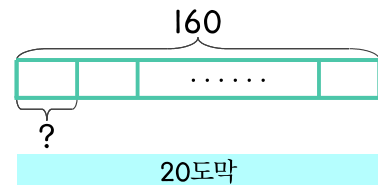
$160 \div 20$



- 12 끈 160cm를 길이가 같은 20도막으로 잘랐습니다. 한 도막의 길이는 몇 cm 인가요?

160×20

$160 \div 20$



정답

