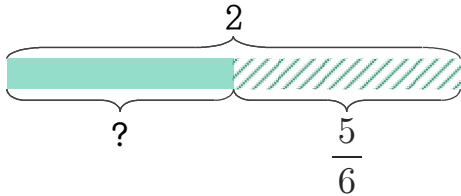


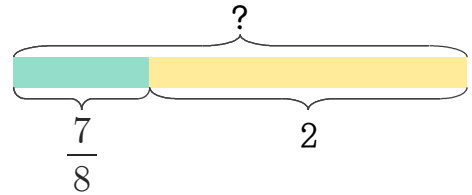
1 피자 2판이 있는데 이 중에서 한 판을 똑같이 6조각으로 나눈 것 중에 5조각을 먹었습니다. 남은 피자는 몇 판인지 분수로 나타내세요.



$$2 - \frac{5}{6} = 1\frac{6}{6} - \frac{5}{6} = 1\frac{1}{6}$$

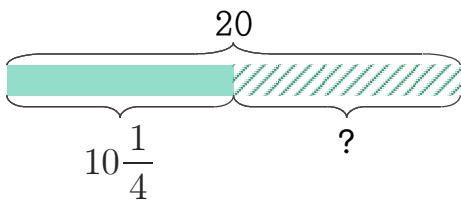
답  $1\frac{1}{6}$  판

2 은서는 피자 한 판을 똑같이 8조각으로 나눈 것 중에 7조각을 갖고 있고 윤재는 피자 2판을 갖고 있습니다. 두 사람이 갖고 있는 피자를 합하면 몇 판인지 분수로 나타내세요.



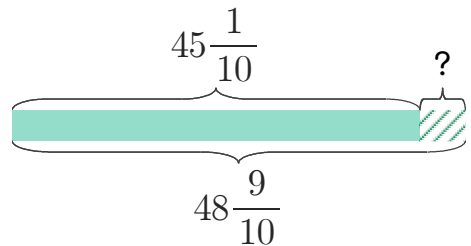
답

3 쌀 20kg 중에서 몇 kg을 먹었더니 남은 쌀이  $10\frac{1}{4}$ kg입니다. 먹은 쌀은 몇 kg인지 분수로 나타내세요.



답

4 은서의 작년 몸무게는  $45\frac{1}{10}$ kg이었고 올해는  $48\frac{9}{10}$ kg입니다. 일 년 동안 늘어난 무게는 몇 kg인지 분수로 나타내세요.



답

정답

