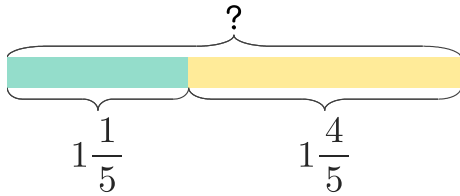


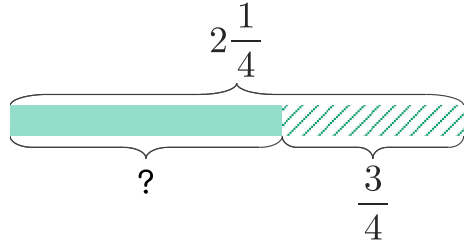
1 피자 $1\frac{1}{5}$ 판과 $1\frac{4}{5}$ 판을 합하면 몇 판 인가요?



$$1\frac{1}{5} + 1\frac{4}{5} = 2\frac{5}{5} = 3$$

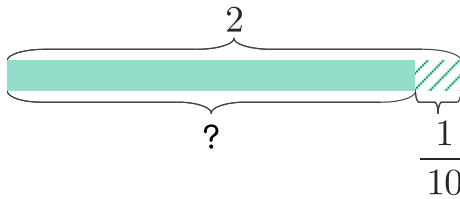
답 **3판**

2 피자 $2\frac{1}{4}$ 판 중에서 $\frac{3}{4}$ 판을 먹었습니다. 남은 피자는 몇 판인지 분수로 나타내세요.



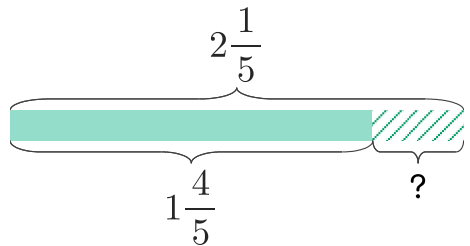
답

3 물 2L 중에서 $\frac{1}{10}$ L를 마셨습니다. 남은 물은 몇 L인지 분수로 나타내세요.



답

4 주스 $2\frac{1}{5}$ L 중에서 얼마만큼을 마셨더니 $1\frac{4}{5}$ L가 남았습니다. 마신 주스는 몇 L인지 분수로 나타내세요.



답

