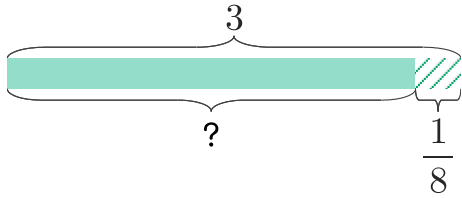


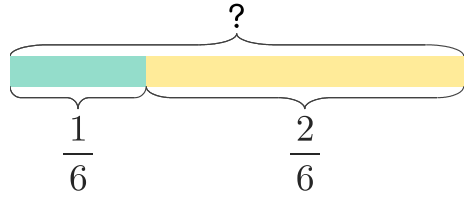
1 피자 3판 중에서 $\frac{1}{8}$ 판을 먹었습니다. 남은 피자는 몇 판인지 분수로 나타내세요.



답

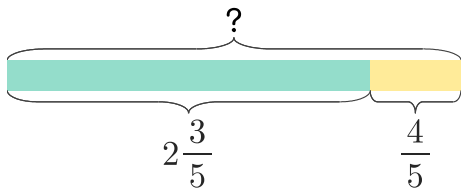
$2\frac{7}{8}$ 판

2 윤하와 동생이 케이크를 먹었습니다. 윤하는 $\frac{1}{6}$ 개, 동생은 $\frac{2}{6}$ 개를 먹었습니다. 두 사람이 먹은 케이크를 합하면 몇 개 인가요?



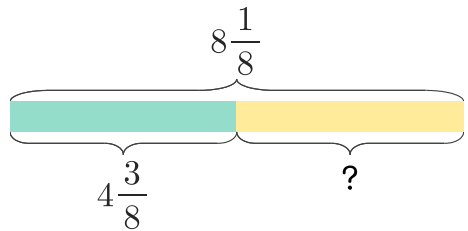
답

3 여행을 가는데 목적지까지 $2\frac{3}{5}$ km를 왔습니다. 앞으로 $\frac{4}{5}$ km를 더 가야 한다면 전체 거리는 몇 km인가요?



답

4 박물관까지의 거리가 $8\frac{1}{8}$ km인데 지금 까지 $4\frac{3}{8}$ km를 왔습니다. 남은 거리는 몇 km인지 분수로 나타내세요.



답

정답

