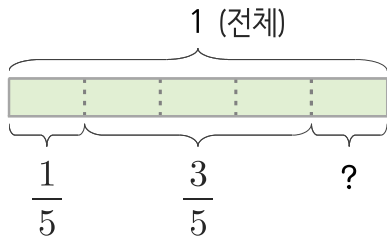
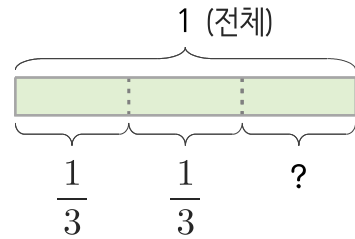


1 주희는 동화책을 읽고 있습니다. 어제는 한 권 전체의 $\frac{1}{5}$ 을 어제 읽었고, 오늘은 $\frac{3}{5}$ 을 읽었습니다. 남은 분량은 전체의 얼마인지 분수로 나타내세요.



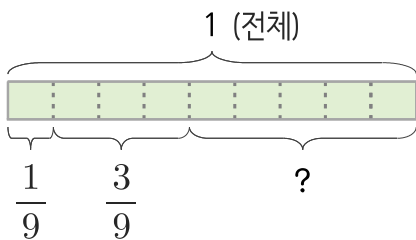
답 $\frac{1}{5}$

2 민규와 동생은 집을 청소하고 있습니다. 민규와 동생이 각각 전체의 $\frac{1}{3}$ 씩을 청소했습니다. 남은 분량은 전체의 얼마인지 분수로 나타내세요.



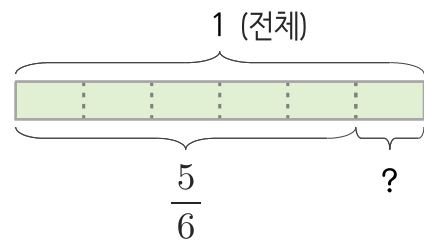
답

3 승하와 언니는 과자 한 통을 나눠 먹고 있습니다. 승하와 언니가 각각 $\frac{1}{9}$, $\frac{3}{9}$ 을 먹었습니다. 남은 분량은 전체의 얼마인지 분수로 나타내세요.



답

4 소율이네 가족은 할머니댁에 가고 있습니다. 지금까지 전체의 $\frac{5}{6}$ 를 왔다면 남은 거리는 전체의 얼마인지 분수로 나타내세요.



답

