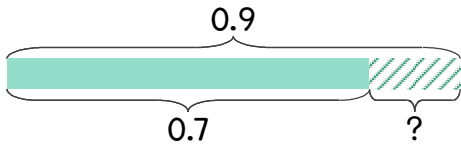


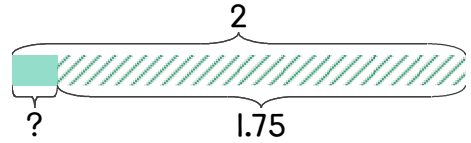
1 우유가 0.9L 있었는데 세나가 마시고 나니 0.7L가 남았습니다. 마신 우유는 몇 L인가요?



$$0.9 - 0.7 = 0.2$$

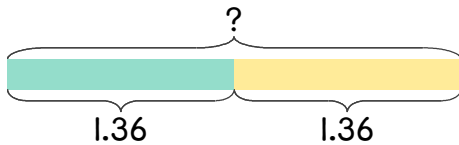
답 0.2L

2 우유 2L 중에서 빵을 만들기 위해 1.75L를 사용했습니다. 남은 우유는 몇 L인가요?



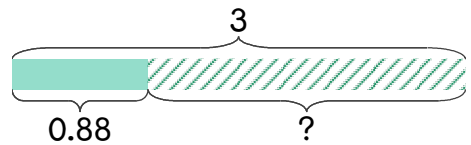
답 _____

3 현아네 집에서부터 학교까지의 거리가 1.36km입니다. 현아가 학교에 갔다가 오는 거리는 몇 km인가요?



답 _____

4 1kg짜리 밀가루 3봉지를 사서 사용하고 나니 0.88kg이 남았습니다. 사용한 밀가루는 몇 kg인가요?



답 _____

