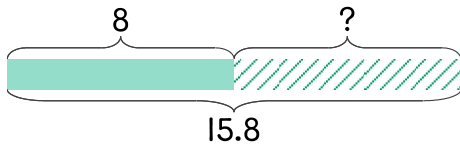


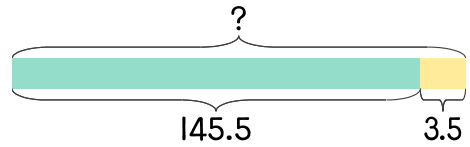
- 1 강낭콩을 심고 키를 관찰하고 있습니다. 지난 주 월요일의 키가 8cm였고 이번 주 월요일의 키가 15.8cm입니다. 일주일 동안 몇 cm가 자랐나요?



$$15.8 - 8 = 7.8$$

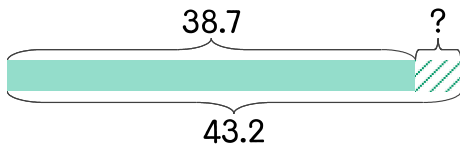
답 7.8cm

- 2 윤호의 키는 145.5cm입니다. 높이가 3.5cm인 신발을 신으면 키가 몇 cm가 되나요?



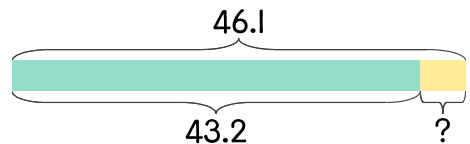
답 _____

- 3 민서의 몸무게는 작년에 38.7kg이었고 올해는 43.2kg입니다. 몸무게가 몇 kg 늘었나요?



답 _____

- 4 윤미가 강아지를 안고 몸무게를 재면 46.1kg이고 혼자 몸무게를 재면 43.2kg입니다. 강아지는 몇 kg인가요?



답 _____

