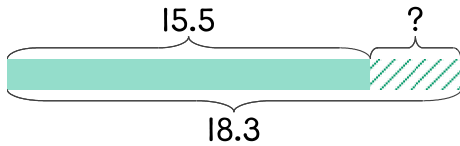


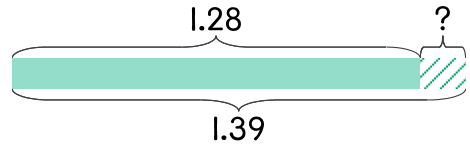
- 1 봉숭아를 심고 키를 관찰하고 있습니다. 어제 봉숭아의 키가 15.5cm이었고 오늘은 18.3cm입니다. 하루 동안 몇 cm가 자랐나요?



$$18.3 - 15.5 = 2.8$$

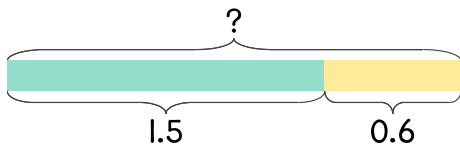
답 2.8 cm

- 2 연우의 키는 작년에 1.28m이었는데 올해는 1.39m가 되었습니다. 그동안 자란 키는 몇 cm인가요?



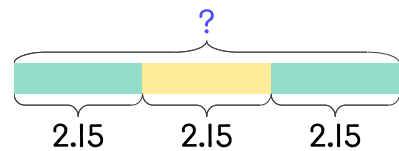
답 _____

- 3 무게가 1.5kg인 가방에 무게가 0.6kg인 책을 넣었습니다. 책을 넣은 가방의 무게는 몇 kg이 되나요?



답 _____

- 4 벽돌 한 장의 무게가 2.15kg입니다. 벽돌 3장의 무게는 몇 kg인가요?



답 _____

