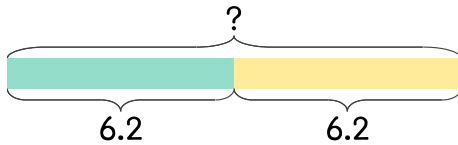


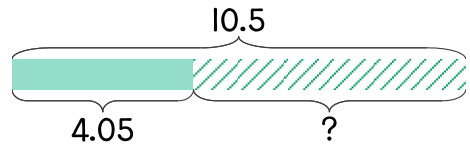
1 공원 둘레를 한 바퀴 걷는 거리가 6.2km입니다. 공원 두 바퀴를 돌면 몇 km를 걷게 되나요?



$$6.2 + 6.2 = 12.4$$

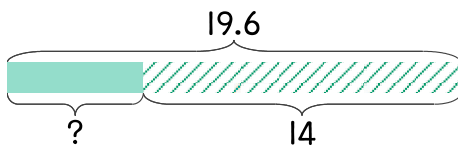
답 12.4km

2 사과 한 상자를 사서 그중에서 일부로 잼을 만들고 나니 4.05kg이 남았습니다. 처음 사과가 10.5kg이었다면 잼을 만든 사과는 몇 kg인가요?



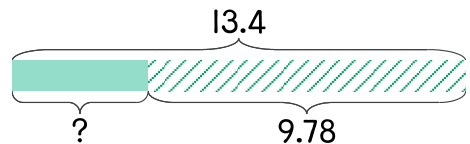
답 _____

3 진아네 가족이 기차역으로 차를 타고 가고 있습니다. 기차역까지 거리가 19.6km인데 지금까지 14km를 왔습니다. 남은 거리는 몇 km인가요?



답 _____

4 오렌지 13.4kg 중에서 주스를 만드는 데 9.78kg을 사용했습니다. 남은 오렌지는 몇 kg인가요?



답 _____

