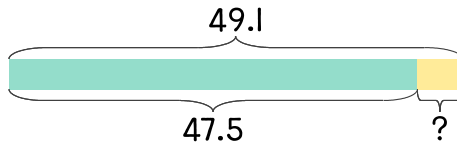


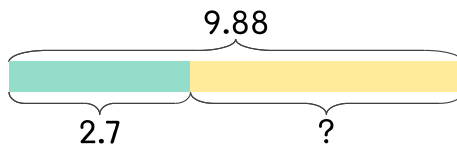
16 수희가 강아지를 안고 몸무게를 재면 49.1kg이고 혼자 몸무게를 재면 47.5kg입니다. 강아지는 몇 kg인가요?



식 \_\_\_\_\_

답 \_\_\_\_\_

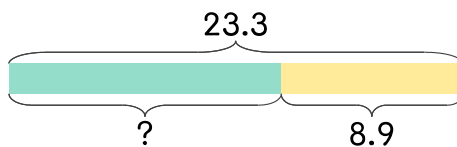
17 사과 한 상자를 사서 몇 개로 잼을 만들고 나니 2.7kg이 남았습니다. 처음 사과가 9.88kg이었다면 잼을 만든 사과는 몇 kg인가요?



식 \_\_\_\_\_

답 \_\_\_\_\_

18 길이가 23.3mm인 끈을 둘로 잘랐더니 하나의 길이가 8.9mm입니다. 다른 하나의 길이는 몇 mm인가요?



식 \_\_\_\_\_

답 \_\_\_\_\_

