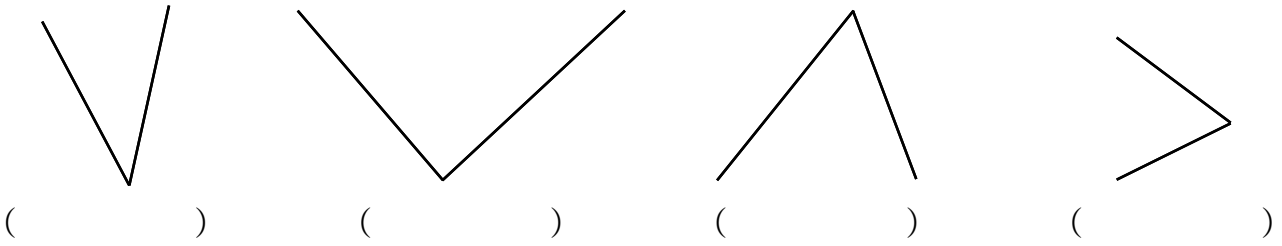
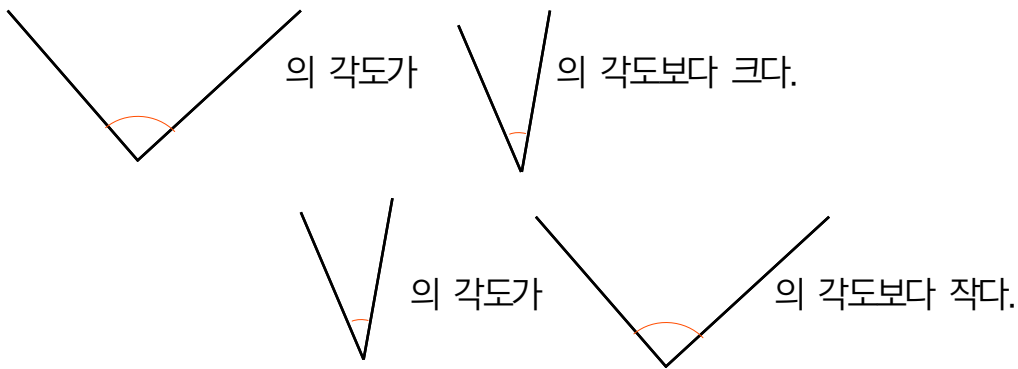


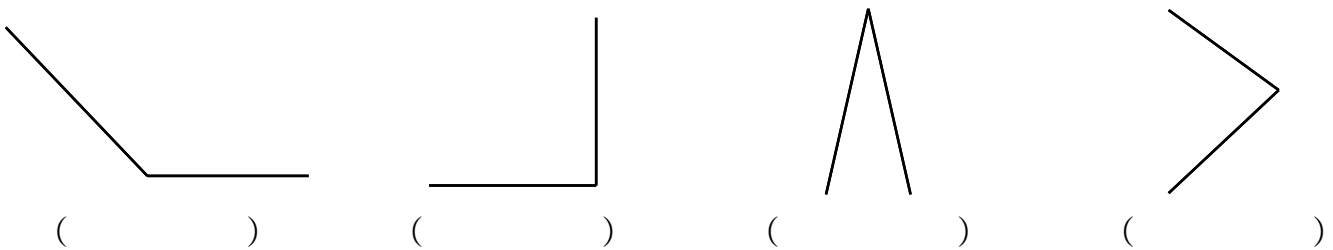
☺ 각의 두 변이 가장 크게 벌어진 각에 ○ 하고, 각의 두 변이 가장 작게 벌어진 각에 △ 하세요.



☺ 각의 크기(두 변이 벌어진 정도) 를 각도 라고 합니다. * 문장을 소리 내어 읽고 따라 쓰세요.



☺ 각도가 가장 큰 각에 ○ 하고, 각도가 가장 작은 각에 △ 하세요.



☺ 삼각형의 각 3개 중에서 각도가 가장 큰 각에 ○ 하고, 각도가 가장 작은 각에 △ 하세요.

