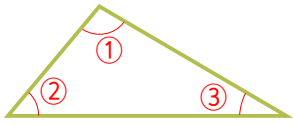


☺ 삼각형의 세 각의 크기를 재어 보세요. 그리고 세 각을 모두 더하세요.



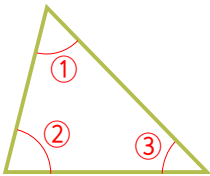
① : 100°

② : _____

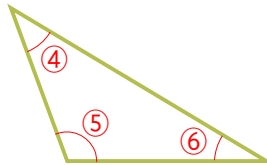
③ : _____

①+②+③= _____

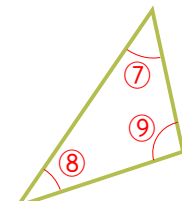
☺ 모든 삼각형은 세 각의 크기의 합이 180°입니다.



① + ② + ③ = 180°



④ + ⑤ + ⑥ = 180°



⑦ + ⑧ + ⑨ = 180°

☺ 삼각형의 세 각의 크기의 합이 180°임을 이용하여 빈칸에 알맞은 각도를 구하세요.

