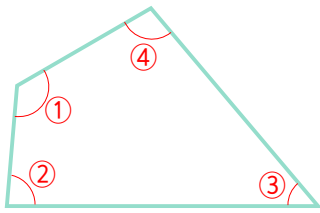


☺ 사각형의 네 각의 크기를 재어 보세요. 그리고 네 각을 모두 더하세요.

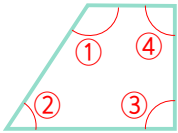


① :  $125^\circ$     ② : \_\_\_\_\_

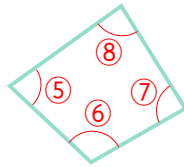
③ : \_\_\_\_\_    ④ : \_\_\_\_\_

①+②+③+④= \_\_\_\_\_

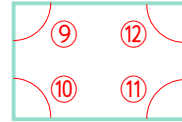
☺ 모든 사각형은 네 각의 크기의 합이  $360^\circ$ 입니다.



① + ② + ③ + ④ =  $360^\circ$



⑤ + ⑥ + ⑦ + ⑧ =  $360^\circ$



⑨ + ⑩ + ⑪ + ⑫ =  $360^\circ$

☺ 사각형의 네 각의 크기의 합이  $360^\circ$ 임을 이용하여 □ 안에 알맞은 각도를 구하세요.

