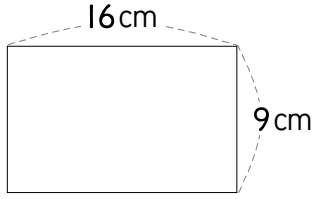


※ 비율을 소수로 나타낼 때 나누어떨어지지 않으면 반올림하여 소수 둘째 자리까지 나타내세요.

- 1 직사각형의 세로에 대한 가로 비율을 구하세요. 2 직사각형의 가로에 대한 세로 비율을 구하세요.

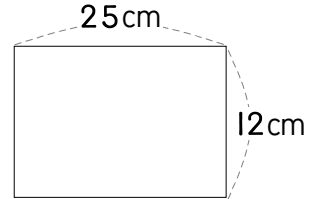


가로 9
세로 16

$$\frac{16}{9} (=1.777\cdots)$$

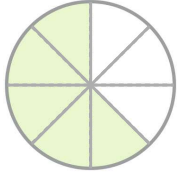
답

$$\frac{16}{9} (=1.78)$$



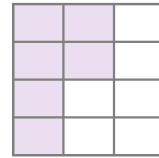
답

- 3 전체에 대한 색칠한 부분의 비율을 구하세요.



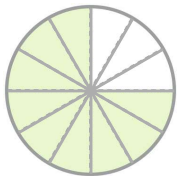
답

- 4 전체에 대한 색칠한 부분의 비율을 구하세요.



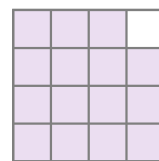
답

- 5 전체에 대한 색칠하지 않은 부분의 비율을 구하세요.



답

- 6 전체에 대한 색칠하지 않은 부분의 비율을 구하세요.



답

