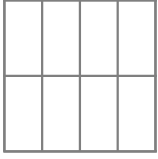


전체의 $\frac{1}{4}$ 을 색칠하세요.



step1

색칠 □

전체 8

$$\frac{\square}{8} = \frac{1}{4}$$

step2

두 분수의 크기가 같도록 □ 값을 찾습니다.

- 4가 8이 되어야 하므로

- 분자와 분모에 2를 곱합니다.

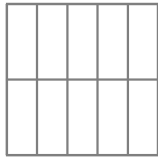
step3

$$\frac{1}{4} = \frac{1 \times 2}{4 \times 2} = \frac{2}{8}$$

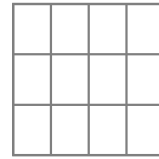
$$\square = 2$$

→ 2칸을 색칠합니다.


1 전체의 $\frac{4}{5}$ 를 색칠하세요.



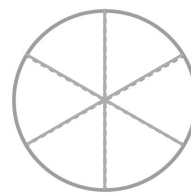
2 전체의 $\frac{2}{3}$ 를 색칠하세요.



3 전체의 $\frac{1}{4}$ 을 색칠하세요.



4 전체의 $\frac{1}{2}$ 을 색칠하세요.



정답