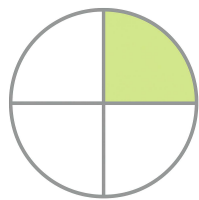


• □ 안에 알맞은 수를 쓴 다음, 비와 비율을 구하세요.



색칠한 부분 색칠하지 않은 부분

전체


	비	비율	백분율
전체에 대한 색칠한 부분	1 : 4	(분수) $\frac{1}{4}$ (소수) 0.25	25 %
전체에 대한 색칠하지 않은 부분	3 : 4	(분수) $\frac{3}{4}$ (소수) 0.75	75 %



색칠한 부분 색칠하지 않은 부분

전체

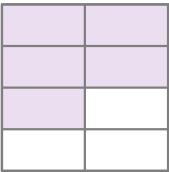
	비	비율	백분율
전체에 대한 색칠한 부분		(분수) (소수)	
전체에 대한 색칠하지 않은 부분		(분수) (소수)	



색칠한 부분 색칠하지 않은 부분

전체

	비	비율	백분율
전체에 대한 색칠한 부분		(분수) (소수)	
전체에 대한 색칠하지 않은 부분		(분수) (소수)	



색칠한 부분 색칠하지 않은 부분

전체

	비	비율	백분율
전체에 대한 색칠한 부분		(분수) (소수)	
전체에 대한 색칠하지 않은 부분		(분수) (소수)	

정답

