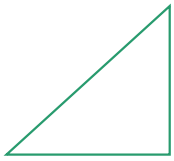
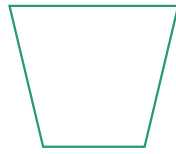


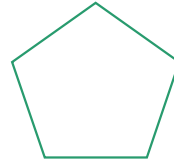
☺ 다각형의 이름은 변의 수에 따라 정해집니다.



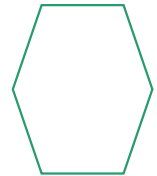
변이 3개
삼각형



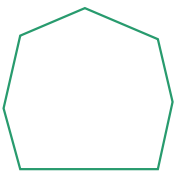
변이 4개
사각형




변이 5개
오각형



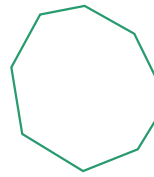
변이 6개
육각형



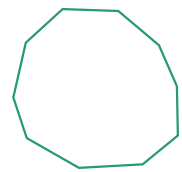
변이 7개
칠각형



변이 8개
팔각형



변이 9개
구각형



변이 10개
십각형

☺ 다각형의 변의 수를 세어 보고 이름을 쓰세요.

사각형				

