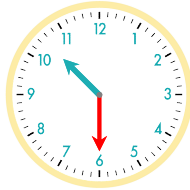


☺ 주어진 시각은 얼마 동안인지 쓰세요.

9 : 20 부터 10 : 00까지는 40분입니다.



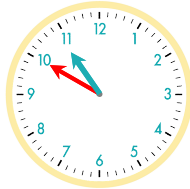
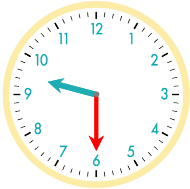
9 : 00 부터 10 : 30까지는 1시간 30분입니다.



9 : 20 부터 10 : 10까지는 _____입니다.



9 : 30 부터 10 : 50까지는 _____입니다.



9시 40분부터 10시까지 : _____

9시 10분부터 10시 40분까지 : _____

9시 20분부터 11시 30분까지 : _____

9시 10분부터 11시 40분까지 : _____

10시 30분부터 12시까지 : _____

10시 40분부터 11시 50분까지 : _____

정답

