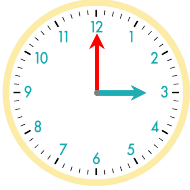


☺ 주어진 시각은 얼마 동안인지 쓰세요.

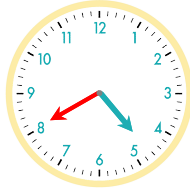
3 : 40 부터 4 : 00까지는 20분입니다.



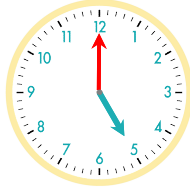
3 : 00 부터 4 : 20까지는 1시간 20분입니다.



3 : 30 부터 4 : 40까지는 _____입니다.



3 : 50 부터 5 : 00까지는 _____입니다.



3시 20분부터 4시까지 : _____

3시 50분부터 5시까지 : _____

3시 10분부터 5시 40분까지 : _____

3시 20분부터 4시 50분까지 : _____

4시 20분부터 5시까지 : _____

4시 10분부터 6시 10분까지 : _____

정답

