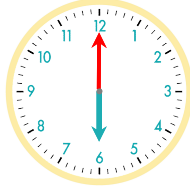
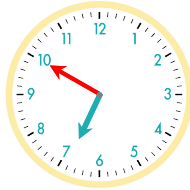


☺ 주어진 시각은 얼마 동안인지 쓰세요.

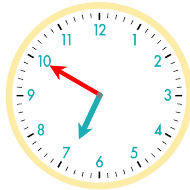
5 : 10 부터 6 : 00까지는 50분입니다.



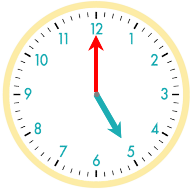
5 : 00 부터 6 : 50까지는 1시간 50분입니다.



5 : 40 부터 6 : 50까지는 \_\_\_\_\_입니다.



5 : 00 부터 7 : 10까지는 \_\_\_\_\_입니다.



5시 30분부터 6시까지 : \_\_\_\_\_

5시 20분부터 6시 30분까지 : \_\_\_\_\_

5시 50분부터 6시 50분까지 : \_\_\_\_\_

5시 10분부터 5시 50분까지 : \_\_\_\_\_

6시 40분부터 7시까지 : \_\_\_\_\_

6시 20분부터 8시 40분까지 : \_\_\_\_\_

정답

