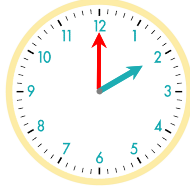


☺ 주어진 시각은 얼마 동안인지 쓰세요.

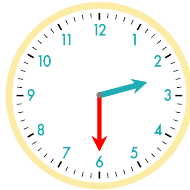
1 : 40 부터 2 : 00까지는 20분입니다.



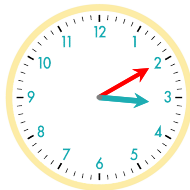
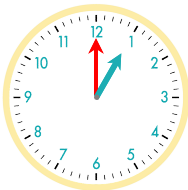
1 : 00 부터 2 : 40까지는 1시간 40분입니다.



1 : 10 부터 2 : 30까지는 _____입니다.



1 : 00 부터 3 : 10까지는 _____입니다.



1시 30분부터 2시까지 : _____

1시 20분부터 3시 30분까지 : _____

1시 40분부터 3시 40분까지 : _____

1시 10분부터 4시 50분까지 : _____

2시 40분부터 3시까지 : _____

2시 30분부터 3시 50분까지 : _____

정답

