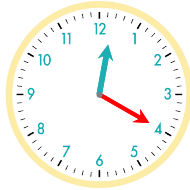


☺ 주어진 시각은 얼마 동안인지 쓰세요.

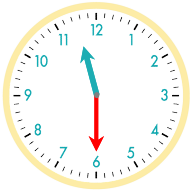
11 : 20 부터 12 : 00까지는 40분입니다.



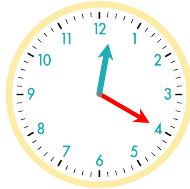
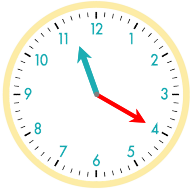
11 : 00 부터 12 : 20까지는 1시간 20분입니다.



11 : 30 부터 12 : 40까지는 _____입니다.



11 : 20 부터 12 : 20까지는 _____입니다.



11시 10분부터 11시 40분까지 : _____ 11시 40분부터 12시 50분까지 : _____

11시 30분부터 12시까지 : _____ 11시 20분부터 12시 40분까지 : _____

12시 10분부터 1시까지 : _____ 12시 30분부터 2시까지 : _____

